

平成20年度  
高等学校入学者選抜学力検査問題

第 3 部

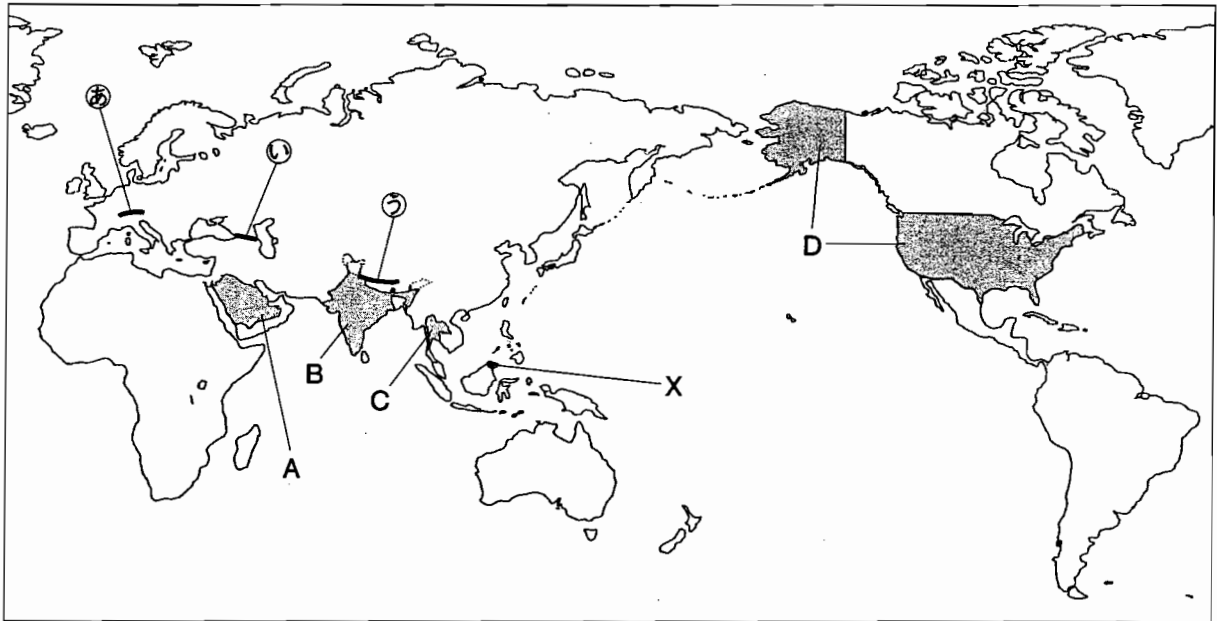
社 会

注 意

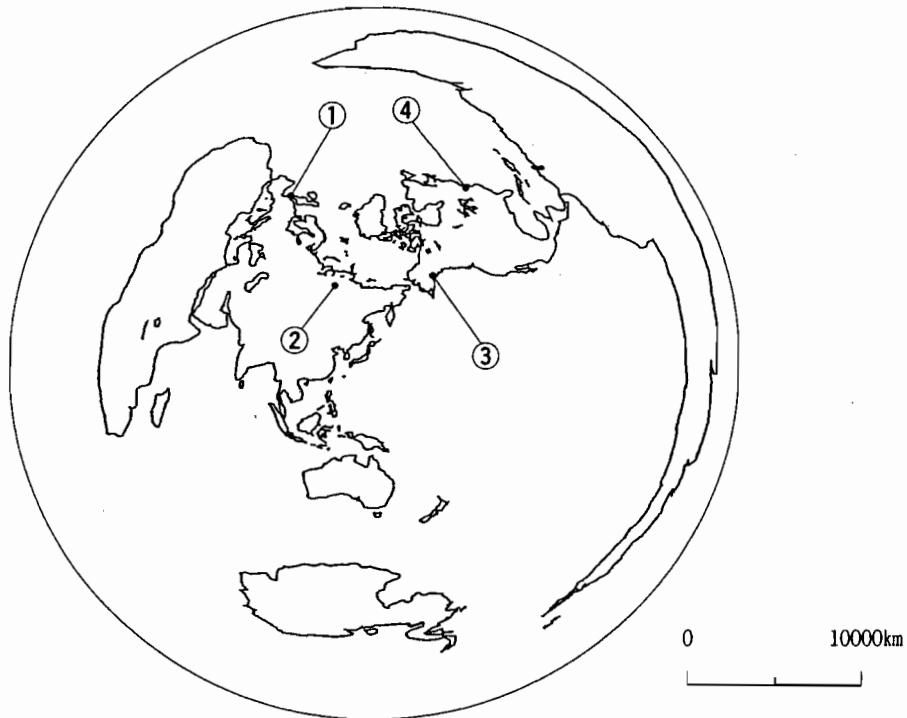
- 1 問題は、**1** から **6** まであり、11ページまで印刷してあります。
- 2 答えは、すべて別紙の解答用紙に記入し、解答用紙だけ提出しなさい。
- 3 問いのうち、「……選びなさい。」と示されているものについては、ア、イ、ウ、……、A、B、C、……、a、b、c、……、①、②、③、……、㊶、㊷、㊸、……の記号で答えなさい。

1 次の略地図1, 2を見て, 問いに答えなさい。

略地図1



略地図2



問1 北緯40度の緯線が通る国を, ア~エから選びなさい。

ア ノルウェー      イ スペイン      ウ 南アフリカ共和国      エ オーストラリア

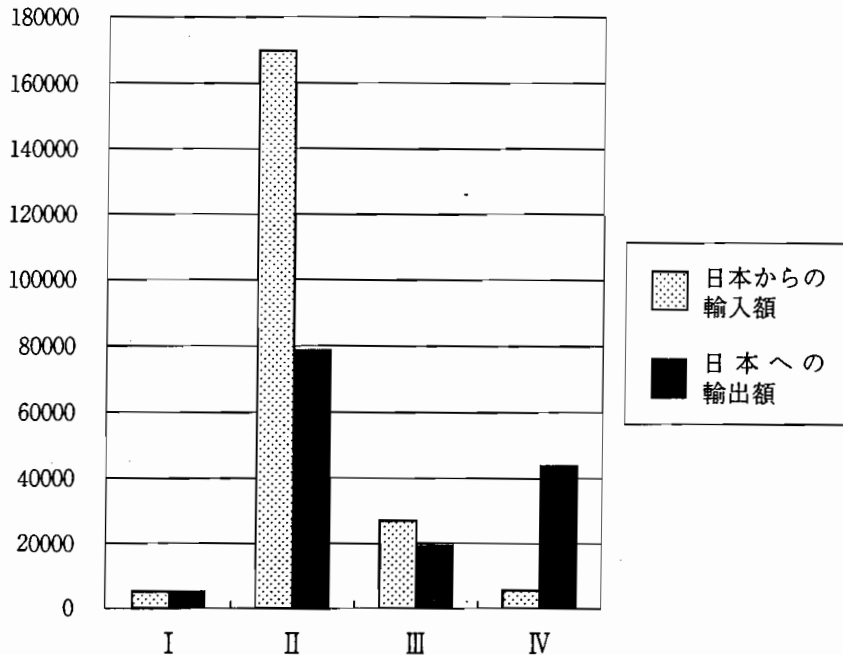
問2 略地図1の㉔~㉖の山脈を含む造山帯の名を書きなさい。

問3 略地図2は, 東京を中心に東京からの距離と方位が正しくなるようにつくった地図です。東京からおよそ10000kmの直線距離にあり, 東京から見た場合, およそ北北西の方位にある都市を, ①~④から選びなさい。

問4 次のグラフは、略地図1のA～Dのそれぞれの国の日本からの輸入額と日本への輸出額を示しており、I～IVには、略地図1のA～Dの国のいずれかが当てはまります。IIIに当てはまる国の名を書き、その国の位置を略地図1のA～Dから選びなさい。


グラフ 日本からの輸入額と日本への輸出額

(億円)



(「世界の国一覧表 2007年版」より作成)

問5 次の写真の家は、略地図1のXの都市に多く見られる、床が高く風通しのよい伝統的な家です。このような家が多くつくられた理由として正しいものを、ア～エから選びなさい。



- ア この都市の気候が、一年を通して寒く、大地が氷でおおわれるため。
- イ この都市の気候が、ほとんど雨が降らず、乾燥が厳しいため。
- ウ この都市の気候が、冬の間寒さが厳しく、積雪が多いため。
- エ この都市の気候が、一年を通して暑く、湿気が多いため。

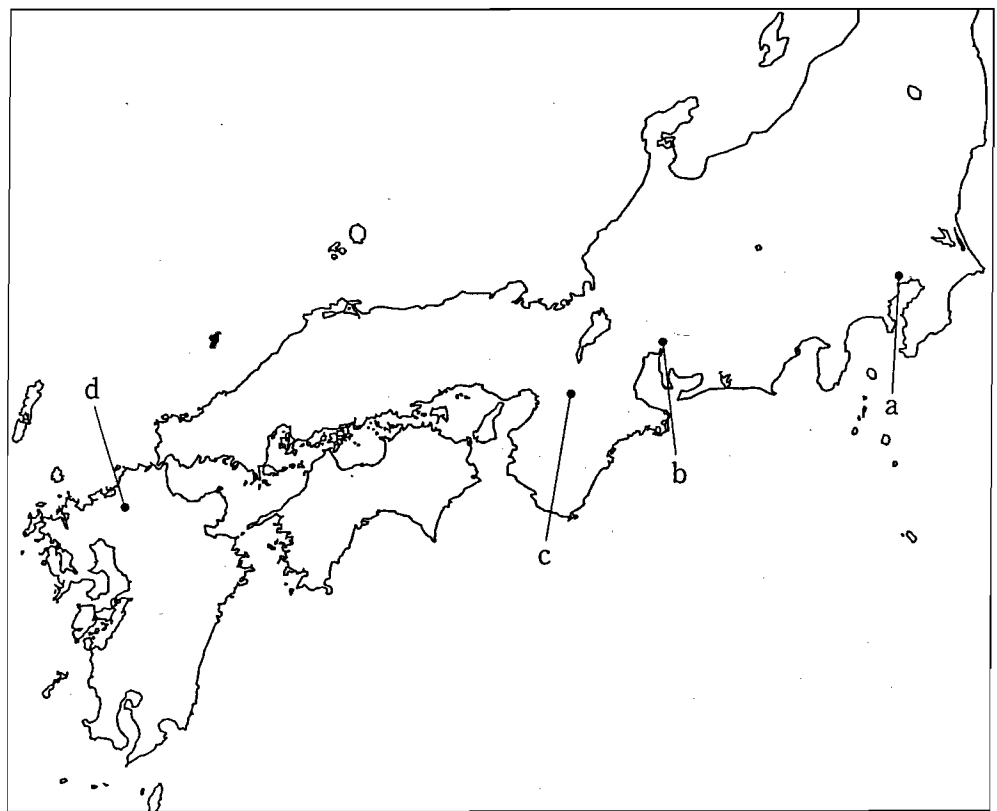
2 わが国のできごとをまとめた次の略年表を見て、問いに答えなさい。

略年表

西暦 (年)		一八四一 一七七二
できごと	五九三 七一〇 聖徳太子が摂政となる 都を <span style="border: 1px solid black; padding: 2px;">A</span> に移す	一六〇三 徳川家康が征夷大将軍となる ① 源頼朝が征夷大将軍となる ② 田沼意次が老中となる ③ 水野忠邦が天保の改革を始める

問1 A に当てはまる都の名を、漢字3字で書きなさい。また、A の位置を次の略地図のa～dから選びなさい。

略地図



問2 Bの時期におきたできごとをア～オから三つ選び、年代の古い順に並べなさい。

- ア 白河上皇が院政を始めた。
- イ 小野妹子がはじめて隋に渡った。
- ウ 藤原道長が摂政となった。
- エ 後醍醐天皇が建武の新政を行った。
- オ 聖武天皇が東大寺を建てた。

問3 ——線①が開いた幕府について説明した次の文の下線部ア～エの中に、一か所誤りがあります。誤りをア～エから選び、正しいことばを書きなさい。

源頼朝は、ア鎌倉に幕府を開き、武士による新しい政治を始めた。頼朝は、家来となることを誓った武士を、イ御家人にして、彼らの先祖伝来の領地を保護し、てがらにウ応じて新しい領地を与えた。

しかし、頼朝の死後、幕府では主導権争いがおこり、源氏の将軍は三代で絶えた。この間に、エ管領の地位についた北条氏は、やがて、その地位を独占するようになり、幕府の実権をにぎった。

また、朝廷の勢力の回復をねらっていた後鳥羽上皇は、源氏の将軍が絶えたことを幕府をたおす好機と考え、挙兵した。これに対し幕府は、東国の武士の大部分を味方につけ、上皇側を破り、京都にエ六波羅探題を置いて、朝廷の監視を強めた。

問4 Cの時期の文化に関して述べた文を、ア～エから選びなさい。

- ア 葛飾北斎は、自然を題材として「富嶽三十六景」などの風景画をえがいた。
- イ 唐に渡った最澄は、帰国後、比叡山の延暦寺を中心に天台宗を広めた。
- ウ 狩野永徳は、城の内部のふすまや屏風などに、はなやかな絵をえがいた。
- エ 神話や伝承などをもとに、「古事記」や「日本書紀」がつくられた。

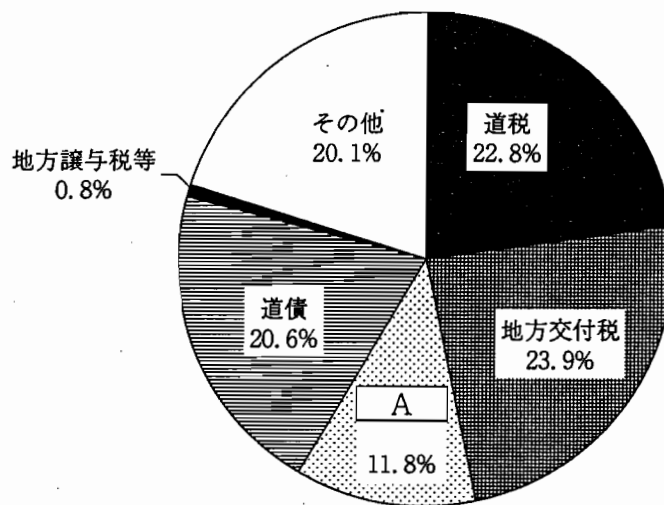
問5 ——線②と——線③の人物は、株仲間に対してそれぞれどのような政策を行いましたか。二人の政策のちがいがわかるように、簡単に書きなさい。

3 次の文を読んで、問いに答えなさい。

①政府は、②家計や③企業から集めた④税金をもとに、道路や港湾などの社会資本の整備を行ったり、教育、社会保障などの公共的なサービスを提供したりしている。政府は、このような経済活動を通じて、⑤国民生活の向上を図る役割を担っている。

問1 下線部①について、政府（国や地方公共団体）の収入を歳入といいます。次のグラフ1の  は、国から地方公共団体に、特定の活動を行うために支払われる資金です。 に当てはまることばを、書きなさい。

グラフ1 平成19年度の北海道の歳入  
(総額 2兆6,654億円)



(北海道総務部「北海道予算の概要(平成19年3月)」より作成)

問2 下線部②の支出のうち、消費支出に当てはまるものを、ア～エから選びなさい。

- ア 銀行への預金      イ 食料品の購入  
ウ 相続税の納入      エ 家賃の収入

問3 下線部③のうち、株式会社について述べた文として誤っているものを、ア～エから選びなさい。

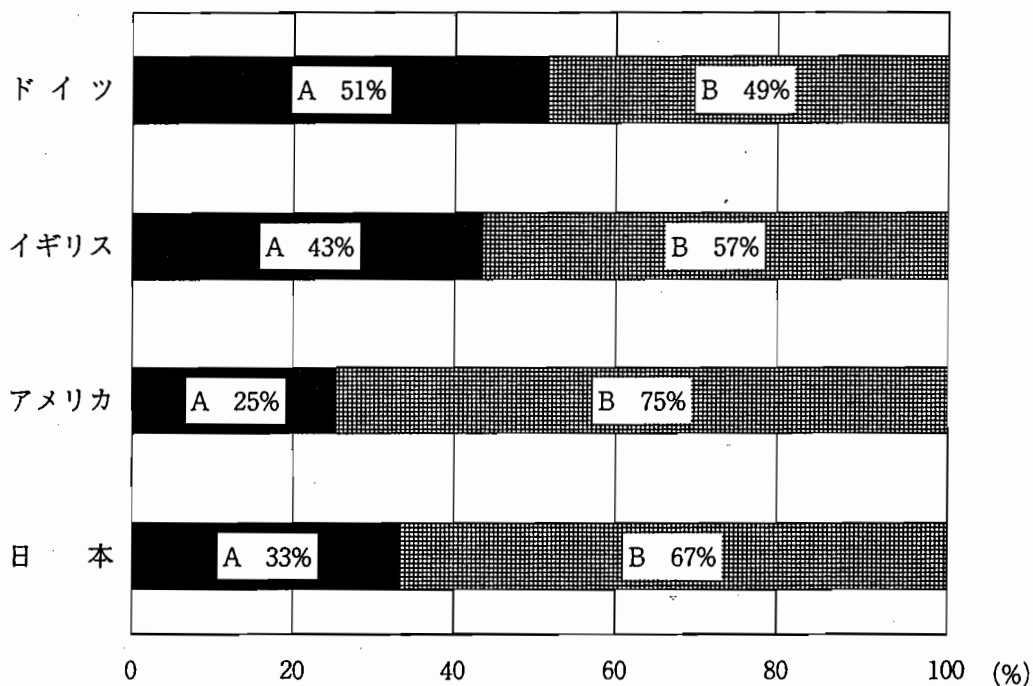
- ア 株主は、株主総会において、取締役などの役員の選出に参加できる。  
イ 株式会社は、株式を発行することにより資金を集めることができる。  
ウ 株式市場において、すべての株式会社の株価は、つねに同じである。  
エ 株主は、株式会社の利益(利潤)の一部を配当として受け取ることができる。

問4 下線部④について、次の文の { } (1), (2)のそれぞれに当てはまることばを、ア、イから選びなさい。

わが国では、直接税のうち所得税や住民税は、所得がふえるにつれて税率が、(1) {ア 高く イ 低く} なる。

次のグラフ2は、ドイツ、イギリス、アメリカ、日本の直接税と間接税の比率を示しており、直接税を示しているのは、(2) {ア A イ B} である。

グラフ2 各国の直接税と間接税の比率



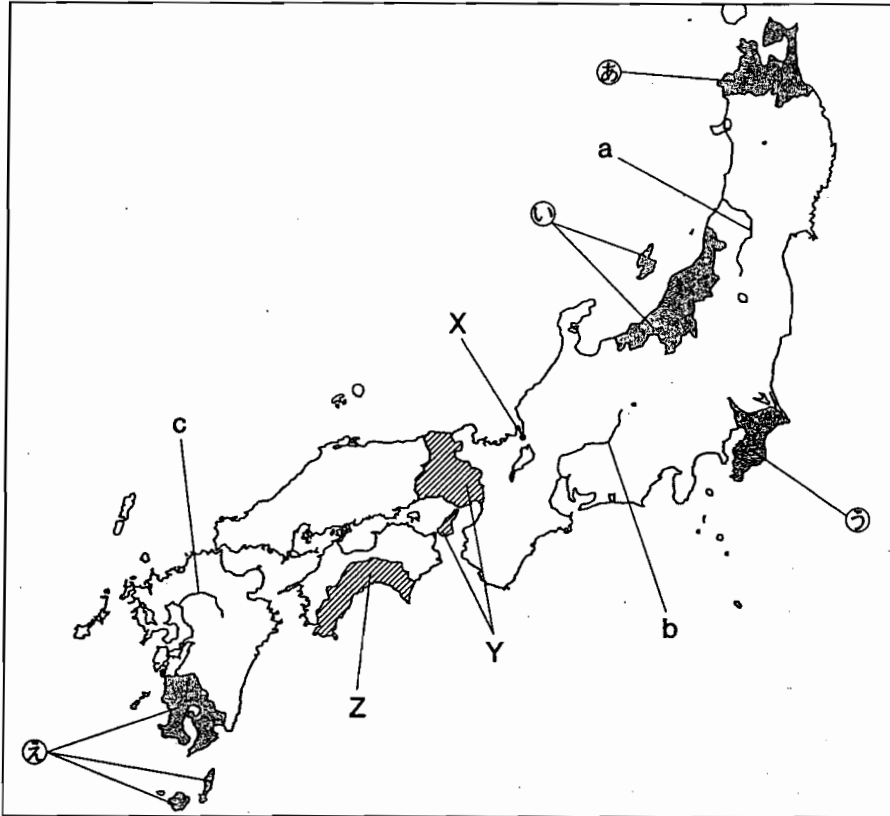
(データは2003年。財務省「わが国税制・財政の現状全般に関する資料」より作成)

問5 下線部⑤について、消費者を保護するため、訪問販売などで商品を購入した場合、一定の期間内であれば契約を解除できる制度を何といいますか、ア～エから選びなさい。

- ア クーリング・オフ      イ クレジット  
ウ オンブズマン          エ リサイクル

4 次の略地図を見て、問いに答えなさい。

略地図



問1 次の(1), (2)に答えなさい。

- (1) a～cのいずれか一つの河川を選び、選んだ河川の記号を書きなさい。また、あなたが選んだ河川の名を、A群のア～エの記号で書きなさい。さらに、選んだ河川の下流に広がる平野をB群から選び、カ～ケの記号で書きなさい。

[A 群] ア 木曾川      イ 筑後川      ウ 最上川      エ 利根川

[B 群] カ 濃尾平野      キ 関東平野      ク 筑紫平野      ケ 庄内平野

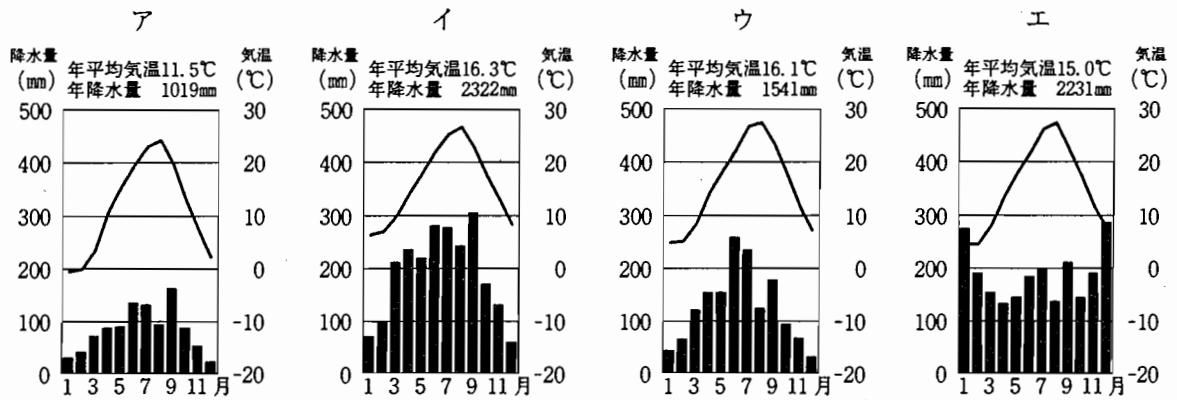
- (2) 日本の河川の特徴と河川がつくる地形について述べた次の文の  ①  ,  ② のそれぞれに当てはまることばを、ア～オから選びなさい。

日本の国土は狭く、山地が多いため、世界の大きな河川に比べて、日本の河川は短く流れが急である。河川が山地から平野や盆地にさしかかる谷口付近になると、傾斜が急にゆるやかになり、上流から運ばれてきた大きな砂利が堆積し、 ①  を形成する。さらに河口付近になると、細かな砂や泥が堆積し、 ②  を形成する。

ア 三角州      イ 海溝      ウ 山脈      エ 扇状地      オ さんご礁<sup>しょうご</sup>

問2 略地図のXの都市の気候について、次の(1), (2)に答えなさい。

- (1) Xの都市の気温と降水量を示すグラフを、ア～エから選びなさい。



(2) 次の日本の気候のうち、Xの都市の気候が当てはまるものを、ア～エから選びなさい。  
 また、選んだ気候の特徴を簡単に書きなさい。

- ア 日本海側の気候      イ 内陸性（中央高地）の気候  
 ウ 瀬戸内の気候      エ 太平洋側の気候

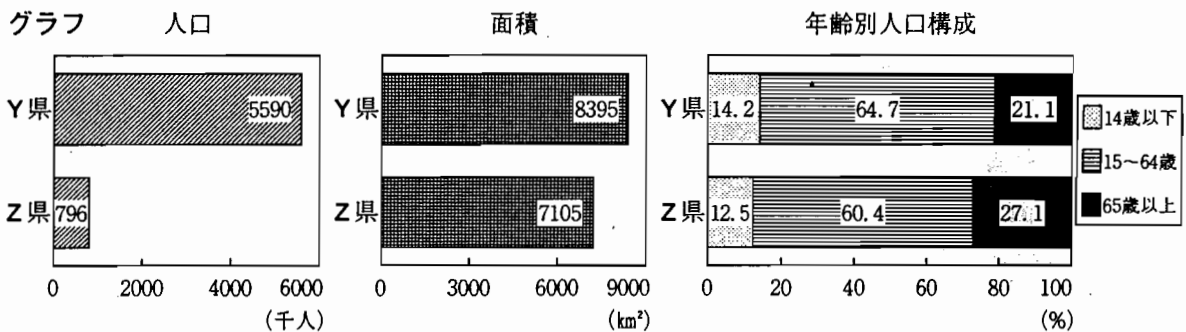
問3 次の表のA～Dには、略地図の㊸～㊺の県のいずれかが当てはまります。表のB, Cに当てはまる県の名をそれぞれ書きなさい。また、その県の位置を略地図の㊸～㊺からそれぞれ選びなさい。

表

項目 県	米の生産量 (t)	ほうれんそう の生産量(t)	りんごの 生産量(t)	肉用牛の飼 育頭数(頭)
A	120,600	3,260	1	352,800
B	339,400	36,900	20	41,200
C	322,800	2,410	412,400	57,900
D	652,200	2,420	367	13,300

(「データでみる県勢（日本国勢図会地域統計版）2007年版」より作成)

問4 次の三つのグラフは、略地図のY県とZ県について、2005年度の人口、面積、年齢別人口構成を比較したものです。グラフから読みとったことがらを述べた次の文の { } (1)～(3)のそれぞれに当てはまることばを、ア、イから選びなさい。





(「データでみる県勢（日本国勢図会地域統計版）2007年版」より作成)


上のグラフをもとに、Y県とZ県の人口密度を比較すると、Y県はZ県のおよそ(1) {ア 6倍      イ 7倍} である。

また、両県の全人口における65歳以上の人口割合を比較すると、(2) {ア Y県      イ Z県} の方が高く、両県の65歳以上の人口を比較すると、(3) {ア Y県      イ Z県} の方が多い。

- 5 次のA～Cのカードは、純子さんが、今からおよそ150年前、100年前、50年前の日本国内のできごとと、日本と外国との関係についてまとめたものです。これらのカードを見て、問いに答えなさい。

カードA およそ150年前	
日本国内のできごと	日本と外国との関係
<p>○1858年、現在の岩手県釜石市で、洋式高炉を使った近代的な製鉄が始まった。</p>  <p>福沢諭吉</p> <p>○同年、長崎に外国の軍艦が入港し、伝染病のコレラが流行した。</p> <p>○同年、福沢諭吉が江戸で塾を開き、蘭学を教えた。</p>	<p>◇1858年、幕府は、朝廷の許可を得ないまま、① <u>アメリカと条約を結んだ</u>。続いて幕府は、オランダ、ロシア、イギリス、フランスとも、ほぼ同じ内容の条約を結んだ。しかし、幕府の動きに反対する大名や公家もいた。</p>

カードB およそ100年前	
日本国内のできごと	日本と外国との関係
 <p>青函連絡船（比羅夫丸）</p> <p>○1908年、国鉄直営の青函連絡船が就航した。</p> <p>○同年、京都の撮影所で、日本初の映画が作られた。</p> <p>○1909年、日本で初めての板チョコレートが発売された。</p>	<p>◇1905年、アメリカのポーツマスで日露戦争の講和条約が結ばれ、日本は南満州（長春・旅順間）の鉄道の権益や旅順・大連の租借権などを得た。この戦争での日本の勝利は、インドや中国などの② <u>アジア諸国</u>に大きな影響を与えた。</p>

カードC およそ50年前	
日本国内のできごと	日本と外国との関係
<p>○1958年、日本銀行が、聖徳太子の肖像を用いた一万円札を発行した。</p>  <p>東京タワー</p> <p>○同年、インスタントラーメンが発売された。</p> <p>○同年、完成した東京タワーは、パリのエッフェル塔を抜き、世界一高い塔となった。</p>	<p>◇1956年、日本は日ソ共同宣言に調印して、ソ連との国交を回復した。しかし、③ <u>日ソ間の領土問題</u>は解決せず、両国間に平和条約は結ばれなかった。同年、日本は国際連合への加盟が認められ、国際社会に復帰することになった。</p>

問1 下線部①の条約について述べた文として正しいものを、ア～エから選びなさい。

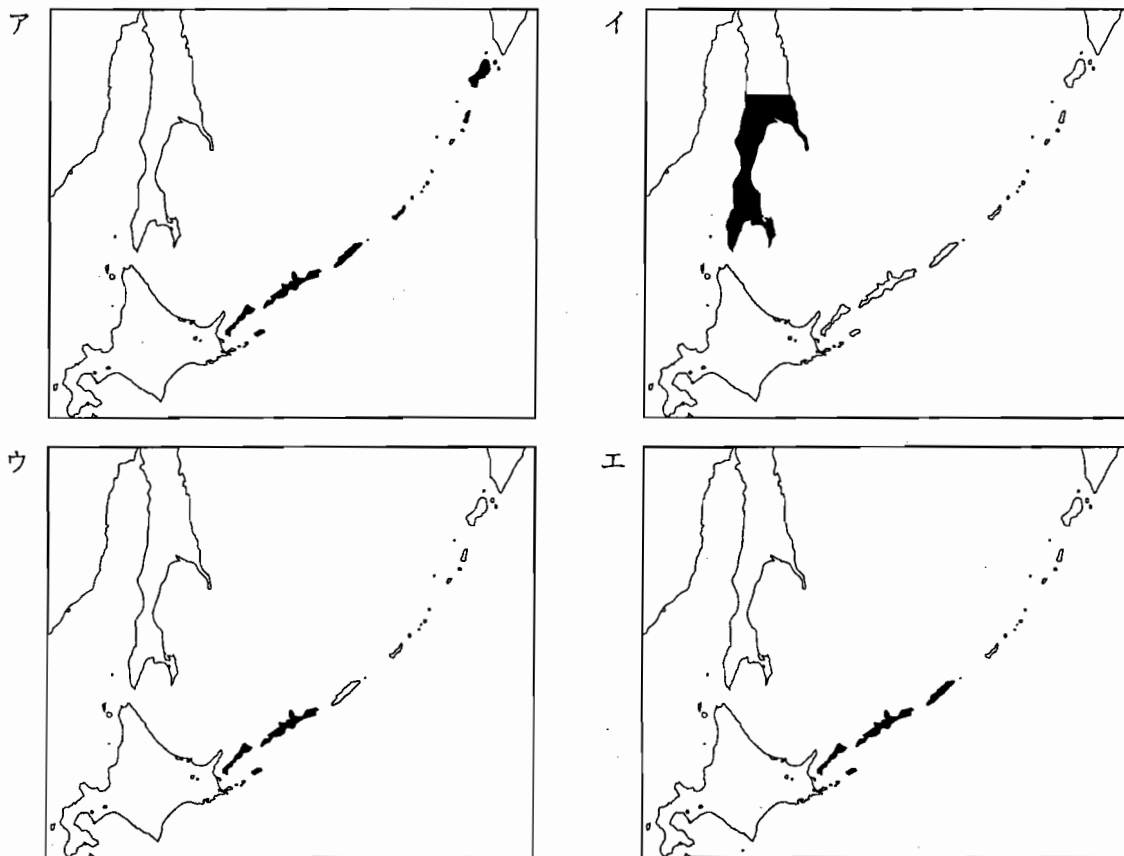
- ア 日本は、下田などの2港を開き、水や食料などを補給することを認めた。
- イ 日本は、講和を結んで独立を回復し、アメリカ軍の駐留を認めた。
- ウ 日本は、神奈川（横浜）、新潟などの5港を開き、貿易を始めた。
- エ 日本は、関税自主権を回復し、関税率を自主的に決めるようになった。

問2 下線部②について述べた次の文の  に当てはまる人の名を書きなさい。また、 に共通して当てはまる国の名を書きなさい。

日露戦争での日本の勝利により、アジア諸国の独立の動きが高まった。欧米諸国に半ば植民地とされてきた清の  は、清をたおして近代国家の建設をめざすため、1905年に東京で中国同盟会をつくり、三民主義を唱えた。

一方、日露戦争後、日本は武力を背景として、 の外交と内政を支配下におき、1910年には  を併合し、総督府を設置して植民地支配を行った。

問3 下線部③は、ソ連からロシア連邦に引き継がれたが、現在も未解決である。日本政府がロシア連邦政府に対して返還を要求している、日本固有の領土である北方領土を  で示している地図を、ア～エから選びなさい。



問4 次の文に書かれているできごとがおきた時期を、ア～エから選びなさい。

日本と中華人民共和国の両国は日中共同声明に調印して国交を開き、日本は中華人民共和国政府が中国を代表する政府であることを認めた。その6年後には日中平和友好条約が結ばれた。

- ア カードAの時期（およそ150年前）より古い時期
- イ カードAの時期（およそ150年前）とカードBの時期（およそ100年前）の間の時期
- ウ カードBの時期（およそ100年前）とカードCの時期（およそ50年前）の間の時期
- エ カードCの時期（およそ50年前）より新しい時期



1 問1

問2  造山帯

問3

問4 

当てはまる国の名	当てはまる国の記号
<input type="text"/>	<input type="text"/>

問5

2 問1 

都 の 名	位 置
<input type="text"/>	<input type="text"/>

問2 

古 い	→	新 しい
<input type="text"/>		<input type="text"/>

問3 

誤 り	正 しい こと ば
<input type="text"/>	<input type="text"/>

問4

問5 

<input type="text"/>
-----
<input type="text"/>

3 問1

問2

問3

問4 

(1)	(2)
<input type="text"/>	<input type="text"/>

問5

4 問1 (1) 

選んだ河川の記号	A 群	B 群
<input type="text"/>	<input type="text"/>	<input type="text"/>

(2) 

①	②
<input type="text"/>	<input type="text"/>

問2 (1)

(2) 

当てはまる気候の記号	気候の特徴
<input type="text"/>	<input type="text"/>

問3 B 

県 名	位 置
<input type="text"/>	<input type="text"/>

C 

県 名	位 置
<input type="text"/>	<input type="text"/>

問4 

(1)	(2)	(3)
<input type="text"/>	<input type="text"/>	<input type="text"/>

5 問1

問2 ア

イ

問3

問4

6 問1 A

B

問2 

当てはまることばの記号	当てはまることば
<input type="text"/>	<input type="text"/>

問3 

A	B	C
<input type="text"/>	<input type="text"/>	<input type="text"/>

問4

問5 

<input type="text"/>
-----
<input type="text"/>

出 願 先 学 校 名
高等学校

受 検 番 号	出 身 学 校 名
<input type="text"/>	学校

得 点
<input type="text"/>



第3部 社会

正 答 表

問題番号	正 答	配点	通し 番号	採 点 基 準	問題番号	正 答	配点	通し 番号	採 点 基 準	
1	問1	イ	2	①	問1	(1)	2	⑯	完全解答 左記の組み合わせのうち、一つが書かれていれば可。	
	問2	アルプス・ヒマラヤ (造山帯)	2	②		選んだ 河川の記号	A群 B群	a ウ ケ b ア カ c イ ク		
	問3	①	2	③						
	問4	当てはまる国の名 タイ 当てはまる国の記号 C	2	④		完全解答				
	問5	エ	2	⑤						
2	問1	都の名 平城京 位置 c	2	⑥	漢字指定 完全解答					
	問2	古い → 新しい オ ウ ア	2	⑦	完全解答					
	問3	誤り ウ 正しくは 執権	2	⑧	完全解答					
	問4	ウ	2	⑨						
	問5	(正答例) 田沼意次は株仲間を認め、水野忠邦は株仲間を解散させた。	3	⑩	田沼意次については「株仲間から税を徴収した。」も可。内容や表現が不十分な場合は1点とする。					
3	問1	国庫支出金	2	⑪						
	問2	イ	2	⑫						
	問3	ウ	2	⑬						
	問4	(1) ア (2) イ	2	⑭	完全解答					
	問5	ア	2	⑮						
4	問1	(1) エ (2) ア	2	⑰	完全解答					
	問2	(1) エ (2) 当てはまる記号 ア 気候の特徴 (正答例) 冬の降水量が多い。	2	⑱	完全解答					
	問3	B 県名 千葉(県) 位置 ㉞ C 県名 青森(県) 位置 ㉟	1	⑲	完全解答					
	問4	(1) ア (2) イ (3) ア	2	㉑	完全解答					
5	問1	ウ	2	㉒						
	問2	ア 孫文 イ 韓国	1	㉓	「スンウエン」も可。 「大韓帝国」も可。					
	問3	ウ	2	㉔						
	問4	エ	2	㉕						
6	問1	A エ B ア	1	㉖						
	問2	当てはまる記号 イ 当てはまることば 議院内閣	2	㉗	完全解答 漢字指定					
	問3	A 民事 B 刑事 C エ	2	㉘	完全解答					
	問4	エ	2	㉙						
	問5	(正答例) 法律が憲法に違反していないかを判断(審査)すること。	3	㉚	内容や表現が不十分な場合は1点とする。					
計							60			

- (注) 1 「漢字で書きなさい。」と指示しているところ以外は、かなを用いて記入しても正答とする。  
 2 2 の問5、 6 の問5以外は、中間点を認めない。  
 3 その他正答表に示された事項以外のものについては、学校の判断による。

